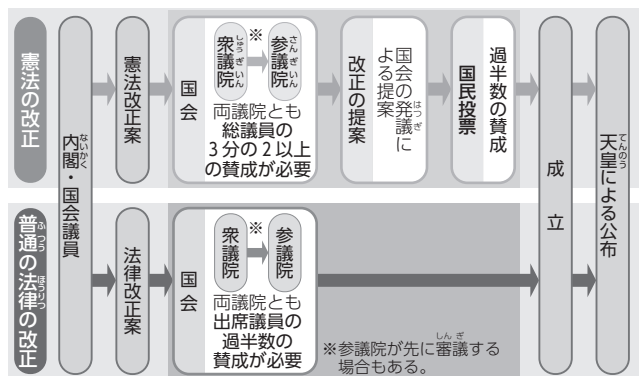


日本国憲法とわたしたちの暮らし

1 日本国憲法

- 1 日本国憲法…日本の国のきまりで最も基本となるもの。前文と103条から成り、日本国のあり方を定めている。国民主権、基本的人権の尊重、平和主義を原則とする。
- 2 日本国憲法の改正…憲法改正には、特別な手続きが定められている。

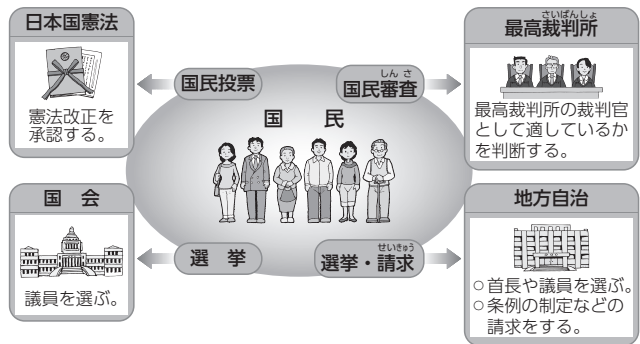
憲法改正と法律の改正の流れ



2 国民主権(日本国憲法の3つの原則)

- 1 国民主権…国の政治について最終的に決定する権利が国民にあるということ。参政権が保障され、情報公開制度などが整えられている。
- 2 天皇…日本の国と国民のままとりの象徴。日本国憲法に定められた仕事である国事行為のみを、内閣の助言と承認にもとづいて行う。

国民の政治参加



3 基本的人権の尊重(日本国憲法の3つの原則)

- 1 基本的人権…人が生まれながらにもっている権利で、すべての国民に保障されている。基本的人権の考え方は、ユニバーサルデザインなど、まちづくりの土台となっている。
- 2 基本的人権の種類…自由権、平等権、社会権、人権を守るための権利に大きく分けられ、新しい人権も認められてきている。
- 3 国民の義務…憲法には、国民の権利とともに、国民が果たさなければならない義務も定められている。

基本的人権

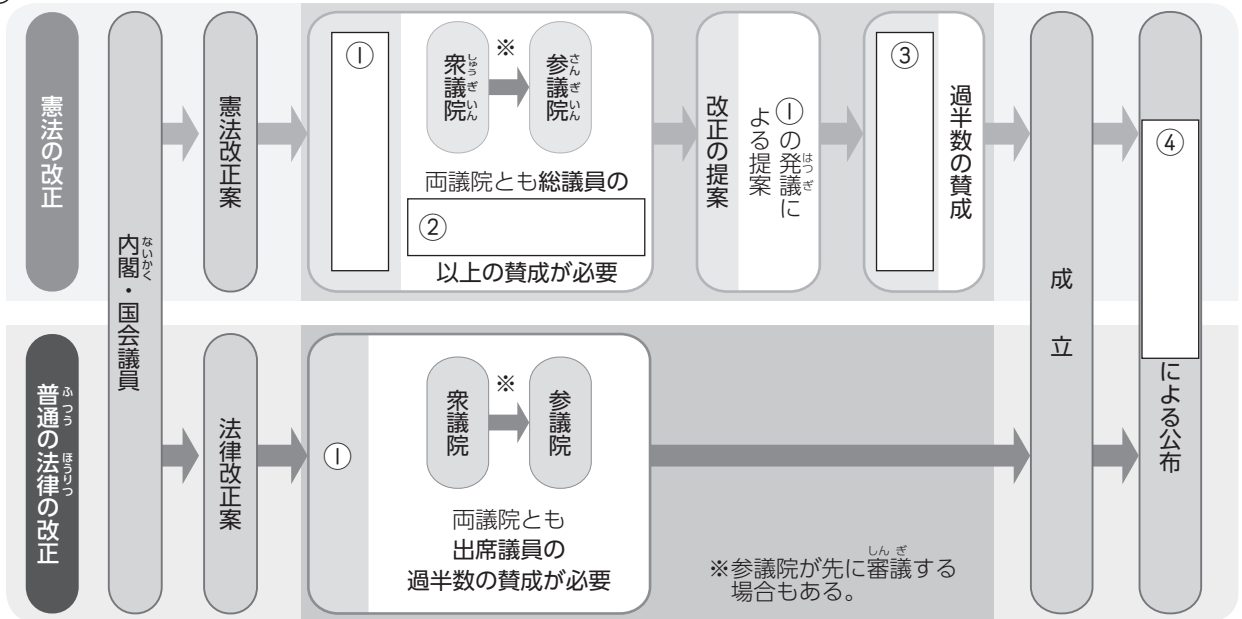
自由権 (自由に生きる権利)	
1	思想や学問の自由
2	言論や集会の自由
3	居住・移転と職業を選ぶ自由
平等権 (すべての国民が法のもとに平等なあつかいを受ける権利)	
4	個人の尊重と法のもとの平等
5	男女の平等
社会権 (人間らしい生活をする権利)	
6	健康で文化的な生活を営む権利 (生存権)
7	教育を受ける権利
8	働く権利
9	働く人が団結する権利
人権を守るための権利	
10	政治に参加する権利 (参政権)
11	裁判を受ける権利

4 平和主義(日本国憲法の3つの原則)

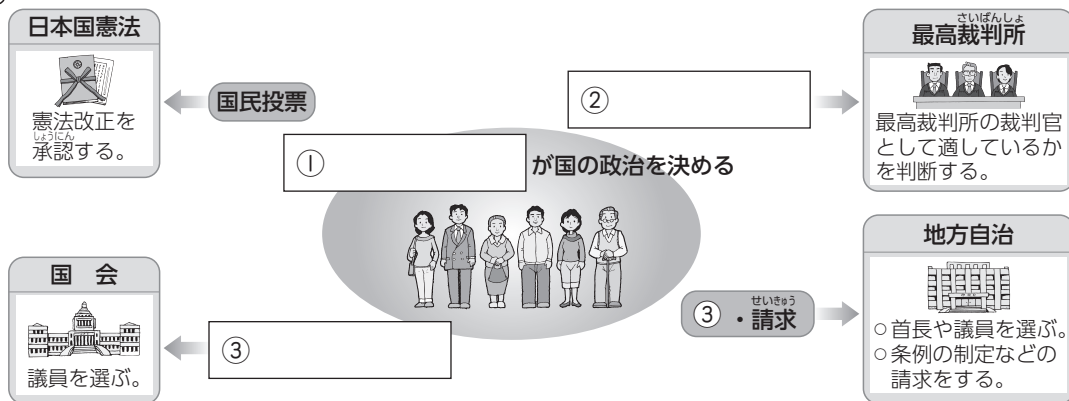
- 1 平和主義…第二次世界大戦の反省をもとに、憲法前文では二度と戦争をしないことをちかい、第9条では戦争を放棄し、戦力をもたず、交戦権を認めないことを定めている。
- 2 非核三原則…日本がかかげている、核兵器を「もたない、つぐらない、もちこませない」という原則。
- 3 自衛隊…1954年、日本の平和と独立を守ることを目的に組織された。

図でまとめよう

1 日本国憲法の改正の手続きについて図にまとめましょう。



2 国民主権について図にまとめましょう。



3 基本的人権について図にまとめましょう。



1 日本国憲法^{けんぽう}

- (1) 国のあり方の根本を定め、すべてのきまりや法などの基本となるものを何といいますか。
- (2) 日本国憲法の改正について、憲法改正の^{はつぎ}発議を行う国の機関は何ですか。
- (3) 憲法改正の発議がなされたのち、国民の意思を問うために行われるものは何ですか。

2 国民主権^{しゅけん}(日本国憲法の3つの原則)

- (1) 日本国憲法では、国の政治を最終的に決める権利はどこにあるとされていますか。
- (2) 日本国憲法が^{ほしょう}保障している、政治に参加することができる権利を何といいますか。
- (3) 日本国憲法では、^{てんのう}天皇は日本の国と国民のまとまりの何であると定められていますか。
- (4) 日本国憲法に定められている、「国会を^{しゅうしゅう}召集する」「^{ほうりつ}法律や条約を公布する」などの天皇の仕事は何といいますか。

3 基本的人権^{じんけん}の尊重^{そんちよう}(日本国憲法の3つの原則)

- (1) 自由権を大きく分けたとき、「身体^{しんたい}の自由」「精神^{せいしん}の自由」ともいう一つは何ですか。
- (2) 「すべての国民が法のもとに平等なあつかいを受ける権利」を何といいますか。
- (3) 「^{せいぞんけん}生存権」や「教育を受ける権利」など、人間らしい生活を送る権利を何といいますか。
- (4) 「政治に参加する権利」や「^{さいばん}裁判を受ける権利」などの権利は、何を守る権利ですか。
- (5) 国民の3つの義務のうち、「子どもに^{ふつう}普通教育を受けさせる義務」「税金^{ぜいきん}を納める義務」ともいう一つは何ですか。

4 平和主義(日本国憲法の3つの原則)

- (1) 「二度と戦争をしないこと」、「戦力をもたないこと」を定めているのは、日本国憲法の第何条ですか。
- (2) 日本がかかげている、核兵器を「もたない、つくらない、もちこませない」という原則を何といいますか。
- (3) 1954年に、日本の平和と独立を守ることを主な目的としてつくられた組織を何といいますか。

1

(1) _____

(2) _____

(3) _____

2

(1) _____

(2) _____

(3) _____

(4) _____

3

(1) _____

(2) _____

(3) _____

(4) _____

(5) _____

4

(1) _____

(2) _____

(3) _____

練習しよう

1 次の文章を読んで、あとの問いに答えなさい。

日本国憲法は、1946年(㉞)に公布され、1947年(㉟)に施行されました。憲法は、国のきまりで最も基本となるものであることから、改正には、一般の法律よりも慎重な手続きが定められています。まず(㉡)で憲法改正案が審議され、可決された場合、(㉢)が憲法改正の発議を行います。その後、国民投票で(㉣)の賛成を得られれば改正が成立し、天皇によって公布されます。

- (1) 文章中の㉞、㉟にあてはまる日付の正しい組み合わせを、次のア～エから1つ選びなさい。
 ア ㉞2月11日 ㉟5月3日 イ ㉞5月3日 ㉟11月3日 ()
 ウ ㉞2月11日 ㉟11月3日 エ ㉞11月3日 ㉟5月3日 ()
- (2) 文章中の㉡に共通してあてはまることばを漢字で書きなさい。 ()
- (3) 文章中の㉣にあてはまることばを書きなさい。 ()

2 次の日本国憲法の3つの原則に関する文章を読んで、あとの問いに答えなさい。

A 日本国憲法では、国民に(㉞)があるとされています。また、天皇は、内閣の助言と承認にもとづいて(㉟)国事行為のみを行います。

B 日本国憲法では、すべての国民に㉡基本的
人権を保障していると
ともに、㉢国民が果た
さなければならない義
務も定めています。

C 日本国憲法では、前文で二度と戦争をしないことをちかい、第(㉞)条で、戦争の放棄や戦力の不保持、交戦権を認めないことを定めています。

- (1) A中の㉞にあてはまることばを書きなさい。 ()
- (2) A中の下線部㉟の内容にあてはまらないものを、次のア～エから1つ選びなさい。
 ア 内閣総理大臣を任命する。
 イ 最高裁判所長官を指名する。
 ウ 国会を召集する。 ()
 エ 法律や条約などを公布する。
- (3) B中の下線部㉡について、次にあてはまる基本的人権をそれぞれ書きなさい。
 ① 「健康で文化的な生活を営む権利」(社会権) (1))
 ② 「政治に参加する権利」(人権を守るための権利) (2))
- (4) B中の下線部㉢について、次の①～③にあてはまることばをそれぞれ書きなさい。
 ・子どもに普通(①)を受けさせる義務
 ・(②)を納める義務 (1))
 ・仕事について(③)義務 (2)) (3))
- (5) C中の㉞にあてはまる数字を書きなさい。 ()



思考力のとびら

1 次の資料を見て、あとの問いに答えなさい。

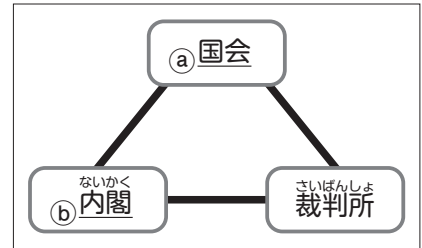
資料1

日本国憲法前文
(前略)
ここに主権が国民に存することを宣言し、この憲法を確定する。

資料2

日本国憲法前文
第25条
第1項
すべて国民は、 権利を有する。

資料3



(1) 資料1中の下線部の「主権が国民に存する」とはどういうことですか。次のことばを使って具体的に説明しなさい。〔政治 最終的〕

()

(2) 資料2中のにあてはまる語句を、次のことばを使って書きなさい。〔最低限度 営む〕

()

(3) 資料3について、次の問いに答えなさい。

① 資料3のように、3つの機関が役割を分担し、互いに抑制し合うしくみにしている目的を、「権力」ということばを使って、簡単に書きなさい。

()

② 資料3中の下線部aについて、日本の国会は、衆議院と参議院の2つで構成されています。予算や内閣総理大臣の指名で2つの議院が異なる議決をした場合、両院協議会が開かれ、意見の調整を図ります。それでも一致しないときは、衆議院の優越がみとめられ、衆議院の議決が国会の議決となります。このように、衆議院の優越がみとめられている理由について、次の文のにあてはまる内容を、右の表中のことばを2つ使って簡単に書きなさい。

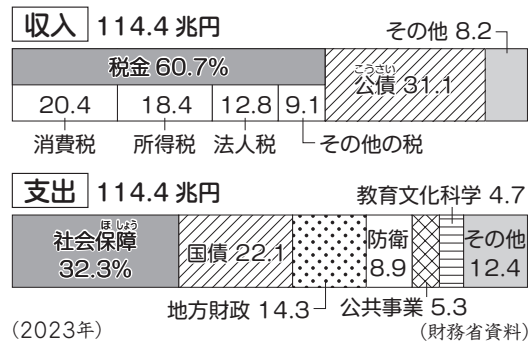
・衆議院の方が、参議院よりも国民の意思を強く反映していると考えられるから。

465人	議員数	248人
25歳以上	被選挙権	30歳以上
小選挙区と比例代表	選挙区	選挙区と比例代表
4年解散がある	任期	6年(3年ごとに半数を改選)解散がない

()

③ 下線部bについて、右のグラフは内閣が作成した予算です。グラフから読み取れる内容として正しいものを、次のア～エから1つ選びなさい。

- ア 国の収入の半分以上が借金によるものである。
イ 税金による収入のなかで、いちばん多いのは所得税である。
ウ 国の支出の約3分の1が、社会保障にあてられている。
エ 公共事業に使われるお金は、10兆円をこえている。




()

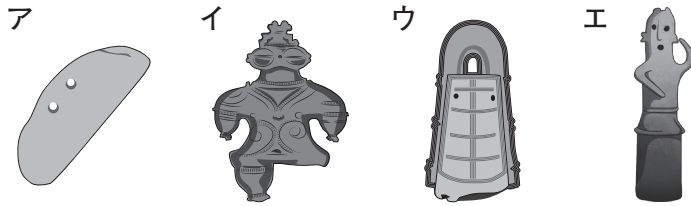
2 次の問いに答えなさい。

(1) **資料1**は、弥生時代のむらの遺跡である吉野ヶ里遺跡を復元した様子を示したものです。次の問いに答えなさい。

資料1



① このころ広まった米づくりに使われた道具を、次のア～エから1つ選びなさい。()

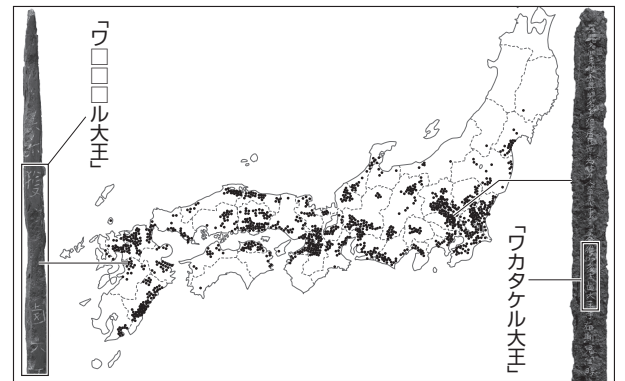


② むらのまわりをほりやさくて囲んでいる理由を、簡単に書きなさい。

()

(2) **資料2**は、5世紀後半の前方後円墳の分布と、同じ王の名前が刻まれた2つの地域の古墳で出土した刀剣を示しています。**資料2**からわかることをまとめた次の文のX・Yにあてはまることばを書きなさい。

資料2



・大和朝廷(政権)は、 地方南部から 地方までを支配していたと考えられる。

X ()

Y ()

(3) 右の年表を見て、次の問いに答えなさい。

① 年表Aの冠位十二階は、**資料3**のように、役人の位を12に分けて、冠の色で区別したものです。このようなしくみをつくった理由を、簡単に答えなさい。

()

② 年表Bの期間に起こった次のア～エのできごとを、左から古い順に並べかえなさい。

(→ → →)

- ア 壬申の乱が起こる
- イ 白村江の戦いが起こる
- ウ 中大兄皇子らが蘇我氏をたおす
- エ 十七条の憲法が定められる

③ **資料4**は、年表Cの藤原京の様子を示しています。日本で最初の本格的な都である藤原京の特色を、参考にした都がある国の名前を用いて簡単に書きなさい。

()

年代	できごと
593	聖徳太子が摂政となる
603	A 冠位十二階を定める
↑ B ↓	
694	C 藤原京がつくられる
701	大宝律令が定められる

資料3

色	冠位	冠
紫	大徳	
	小徳	
青	大仁	
	小仁	
赤	大礼	
	小礼	
黄	大信	
	小信	
白	大義	
	小義	
黒	大智	
	小智	

資料4

