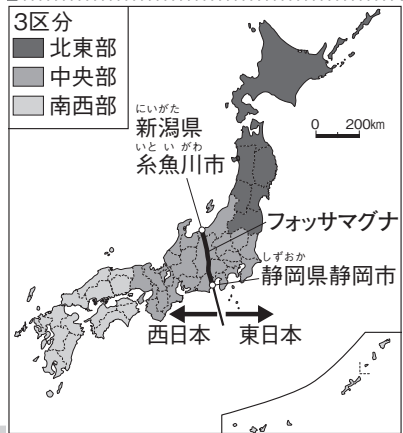


1 日本の位置・地域区分と都道府県

1 日本のさまざまな区分

- ① 2区分と3区分…フォッサマグナを境に東日本と西日本に分ける2区分と、北東部・中央部・南西部に分ける3区分。
- ② 8地方区分…北海道地方・東北地方・関東地方・中部地方・近畿地方・中国地方・四国地方・九州地方。
- ③ 細かな区分…中部地方を北陸・中央高地・東海に区分，中国地方を山陽・山陰に区分，など。
- ④ 気候による区分…雪の多い地域と冬に晴れの多い地域。

日本の2区分と3区分



2 都道府県とその特色

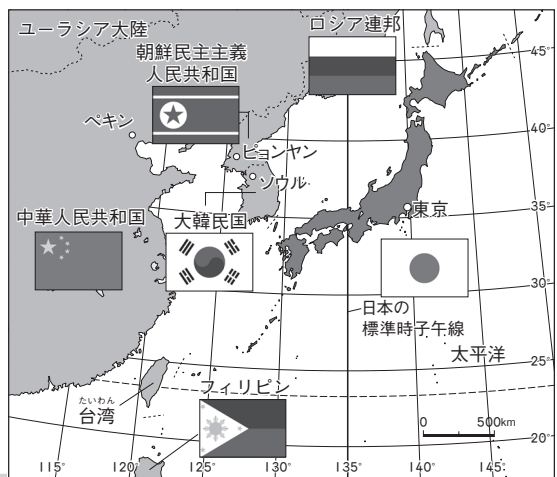
- ① 都道府県…1都1道2府43県の計47都道府県からなる。各都道府県には都道府県庁がある。
- ② 海…海のない県は栃木，群馬，埼玉，山梨，長野，岐阜，滋賀，奈良の8県。海に囲まれた道県は北海道，沖縄県。
- ③ 面積…最大は北海道，県では岩手県が最大。最小は香川県。
- ④ 人口…最も多いのは東京都。最も少ないのは鳥取県。

各都道府県に住む人のために仕事を行う役所

3 日本の位置とまわりの地域や国々

- ① 緯度…北緯20度～北緯46度に位置する。
- ② 経度…東経122度～東経154度に位置する。
- ③ 標準時子午線…東経135度，兵庫県明石市を通る。
- ④ まわりの大陸や大洋…ユーラシア大陸の東側，アジア州の中の東アジアに属している。ヨーロッパからみて極東とよばれる地域になる。太平洋の北西部に位置する。
- ⑤ まわりの国々…ロシア連邦，中華人民共和国（中国），朝鮮民主主義人民共和国（北朝鮮），大韓民国（韓国），フィリピン。

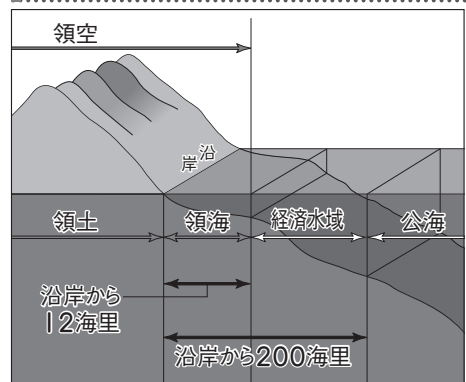
日本のまわりの国々



4 日本の領域

- ① 日本列島…本州，北海道，九州，四国を中心に，およそ6800の島々からなる。北海道から沖縄までの長さはおおよそ3000km。
- ② 日本のはし…北のはしは択捉島，南のはしは沖ノ鳥島，東のはしは南鳥島，西のはしは与那国島。
- ③ 日本の領域の面積…領土（国土）面積は約38万km²，領海の面積は約43万km²，領空は領土と領海の上空。
- ④ 経済水域…日本に水産資源や鉱産資源の権利が認められている水域の面積は約447万km²。

領土，領海，領空と経済水域



※ | 海里は1852m

確認しよう

◆ 次の問いに答えなさい。または、 にあてはまることばを答えなさい。

- ① (1) 日本を東日本と西日本の2つに区分する場合、東西で地質が分かれる新潟県糸魚川市と静岡県静岡市をつないだ線が境となります。この線を何といいますか。 (1) _____
- (2) 日本を8つに区分する場合、北海道地方・東北地方・関東地方・近畿地方・中国地方・四国地方・九州地方とあと1つは何地方ですか。 (2) _____ (3) _____
- (3) (2)の8つの地方区分から、中国地方はさらに2つの地方に区分することもあります。山陰ともう1つは何ですか。 (4) _____
- (4) 気候によって区分した場合、雪が多いのは太平洋側と日本海側のどちらですか。 (5) _____
- ② (5) 日本の都道府県は、合計でいくつありますか。
- (6) 東京都、神奈川県、埼玉県、千葉県のうち、海がないのはどの都県ですか。 (6) _____
- (7) 日本の県で、面積が最も小さい県はどこですか。 (7) _____
- (8) 日本で最も人口が多く、国の役所や企業の本社などが数多くある首都の名前を書きなさい。 (8) _____
- ③ (9) 日本は、地球上での南北の位置をあらわすと 20~46度になります。 (9) _____
- (10) 日本は、地球上での東西の位置をあらわすと 122~154度になります。 (10) _____
- (11) 日本の標準時の基準となる標準時子午線は、どこの県を通っていますか。 (11) _____
- (12) 日本は、ユーラシア大陸のどちら側にありますか。東西南北で答えなさい。 (12) _____
- ④ (13) 日本列島は、北海道から沖縄まで約何千kmありますか。 (13) _____
- (14) 日本の領域で、西のはしにある島は、何という島ですか。 (14) _____
- (15) 日本の領土の総面積は、どれくらいありますか。次から1つ選びなさい。 (15) _____
- 〔 約28万km² 約38万km² 約48万km² 〕
- (16) その国の沿岸から200海里にわたって広がり、水産資源や鉱産資源の権利が認められている水域を何といいますか。 (16) _____



図でまとめよう

① 図の①～④⑦にあてはまる都道府県名と、都道府県庁所在地名を書きなさい。

とどうふけん

ちようしよざいち



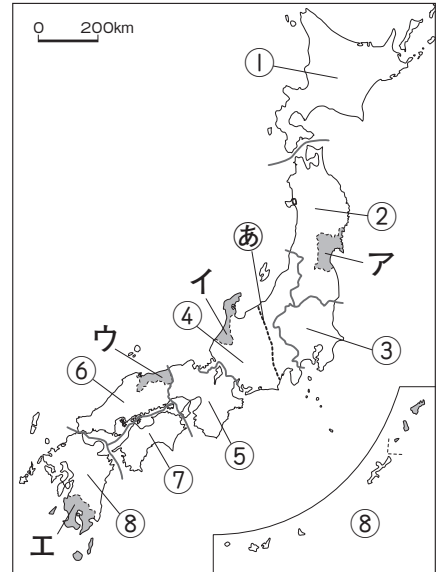
①	市	⑪	市	⑳	市	㉔	市	㉟	市
②	県	⑫	県	㉑	市	㉕	市	㊱	市
③	県	⑬	都	㉒	市	㉖	府	㊲	市
④	市	⑭	市	㉓	市	㉗	府	㊳	市
⑤	市	⑮	市	㉔	市	㉘	府	㊴	市
⑥	市	⑯	市	㉕	市	㉙	府	㊵	市
⑦	市	⑰	市	㉖	市	㉚	府	㊶	市
⑧	市	⑱	市	㉗	市	㉛	府	㊷	市
⑨	市	㉀	市	㉘	市	㉜	府	㊸	市
⑩	市	㉁	市	㉙	市	㉝	府	㊹	市
	市	㉂	市	㉚	市	㉞	府	㊺	市
	市	㉃	市	㉛	市	㉟	府	㊻	市
	市	㉄	市	㉜	市	㊰	市	㊼	市
	市	㉅	市	㉝	市	㊱	市	㊽	市
	市	㉆	市	㉞	市	㊲	市	㊾	市
	市	㉇	市	㉟	市	㊳	市	㊿	市
	市	㉈	市	㊰	市	㊴	市		
	市	㉉	市	㊱	市	㊵	市		
	市	㊰	市	㊲	市	㊶	市		
	市	㊱	市	㊳	市	㊷	市		
	市	㊲	市	㊴	市	㊸	市		
	市	㊳	市	㊵	市	㊹	市		
	市	㊴	市	㊶	市	㊺	市		
	市	㊵	市	㊷	市	㊻	市		
	市	㊶	市	㊸	市	㊼	市		
	市	㊷	市	㊹	市	㊽	市		
	市	㊸	市	㊺	市	㊾	市		
	市	㊹	市	㊻	市	㊿	市		
	市	㊺	市	㊼	市				
	市	㊻	市	㊽	市				
	市	㊼	市	㊾	市				
	市	㊽	市	㊿	市				
	市	㊾	市						
	市	㊿	市						

※都道府県庁所在地は、都道府県名と都市名がことなる場合のみ示しています。

練習しよう

1 右の地図をみて、次の問いに答えなさい。

- (1) 地図中の②は、日本の地質が分かれる部分で、ここを境に東日本と西日本に分けられています。この線を何と
いいますか。 ()
- (2) 地図中の①は、1つの都道府県で1つの地方になって
います。ここに位置する都道府県を何といいますか。
()
- (3) 地図中の③の地方には、日本の首都東京があります。
この地方を何といいますか。 ()
- (4) 地図中の①～⑧の地方の中で、北陸・中央高地・東海
に区分される地方はどれですか。番号で答えなさい。
()
- (5) 日本で最も人口が少ない県を、地図中のア～エから1
つ選びなさい。 ()
- (6) 地図中の①～⑧の地方の中で、海がない県がある地方はいくつありますか。()



2 右の地図をみて、次の問いに答えなさい。

- (1) 地図中の①は、日本の時間の基準とな
る経線です。この経線を何といいますか。
()
- (2) 地図中の①が通っているのは、兵庫県の
何市ですか。次から1つ選んで書きな
さい。 ()
{ 神戸市 明石市 姫路市 }
- (3) 日本は②の大陸の東のはしにあります。
この大陸を何といいますか。
()
- (4) 地図中の③の国を何といいますか。
()
- (5) 地図中の④は、日本の南のはしにあたる島です。この島を次から1つ選んで書きなさい。
()
{ 択捉島 与那国島 南鳥島 沖ノ鳥島 }
- (6) その国の沿岸から200海里以内であり、水産資源や鉱産資源の権利が認められている
水域を何といいますか。 ()
- (7) 日本には、大小合わせてどれだけの島がありますか。次から1つ選んで書きなさい。
()
{ 約800 約3800 約6800 }

