

1

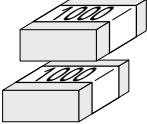
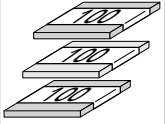
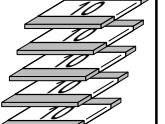
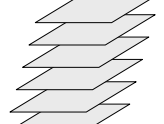
数の あらわし方と しくみ (1)

A

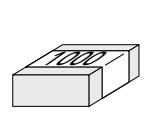
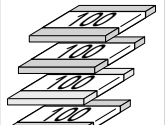
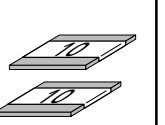
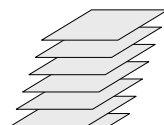
できた かず
/10もん

1 ぜんぶで なん 何まい あるでしょう。漢字で かんじ かきましょう。

①

				(まい)
1000が 2つ	100が 3つ	10が 5つ	1が 6つ		

②

				(まい)
1000が 1つ	100が 4つ	10が 2つ	1が 7つ		

2 つぎの かず 数の よ 読み方 かた を 漢字で かきましょう。

① 5682

()

② 9465

()

③ 7651

()

④ 6517

()

⑤ 3128

()

⑥ 1983

()

⑦ 1864

()

⑧ 1112

()

2

数の あらわし方と しくみ (2)

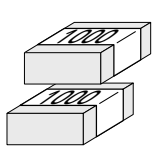
A

できた かず

/10もん

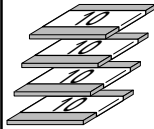
1 ぜんぶで なん 何まい あるでしょう。漢字で かんじ かきましょう。

①

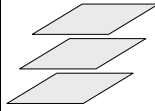


1000が
2つ

100が
0



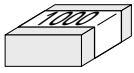
10が
4つ



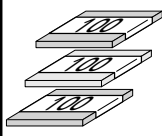
1が
3つ

(まい)

②

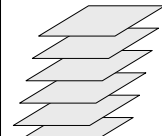


1000が
1つ



100が
3つ

10が
0



1が
6つ

(まい)

2 つぎの かず 数の よ 読み方を かた 漢字で かきましょう。

① 8046

()

② 5032

()

③ 1907

()

④ 6108

()

⑤ 2060

()

⑥ 7005

()

⑦ 3040

()

⑧ 9000

()

3数の あらわし方と
しくみ (3)**A**

できた かず

/12もん

1 つぎの かず 数を すうじ 数字で かきましょう。

① 三千五百二十七

()

② 九千三百四十八

()

③ 二千三百四十四

()

④ 四千七百六十一

()

⑤ 八千七百十三

()

⑥ 六千百五十九

()

⑦ 千五百二十九

()

⑧ 七千百四十一

()

⑨ 五千百十七

()

⑩ 千百五十四

()

⑪ 千八百十六

()

⑫ 千百十一

()

4

数の あらわし方と しくみ (4)

A

できた かず

／12もん

1 つぎの かず 数を すうじ 数字で かきましょう。

① 五千六百三十

()

② 七千五百十

()

③ 九千七百四

()

④ 六千二百一

()

⑤ 五千八十五

()

⑥ 四千十八

()

⑦ 千八百六十

()

⑧ 千五百九

()

⑨ 三千四百

()

⑩ 二千六十

()

⑪ 千百八

()

⑫ 九千一

()